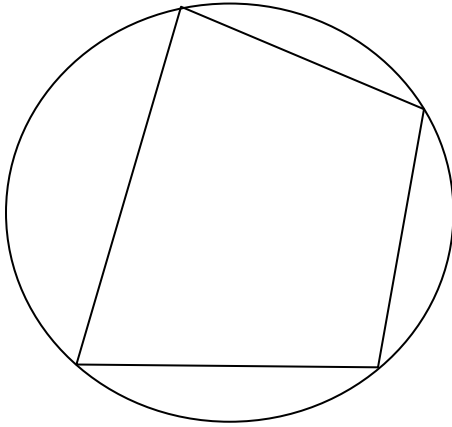
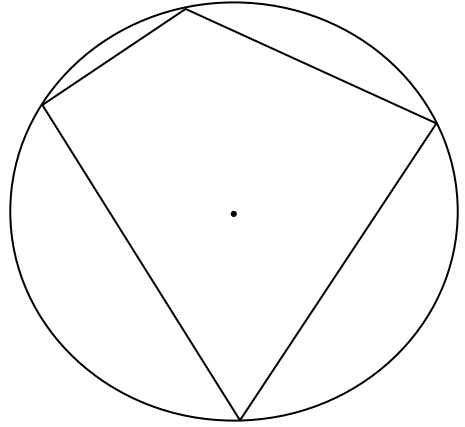


内接四角形の定理 - 1

☆ 『内接四角形の定理』



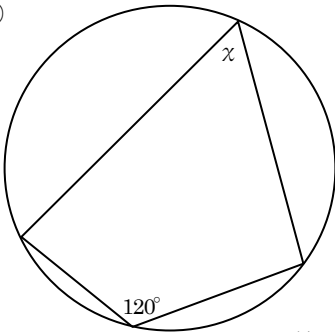
『証明』



『定理1』…「内接四角形において、対角の和は 180° である。」 < “対角の定理” >

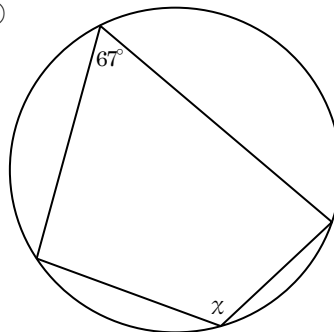
1, 次の円において、 $\angle \chi$ の大きさを求めなさい。

①



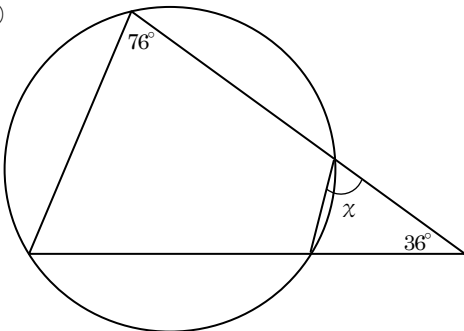
答 _____

②



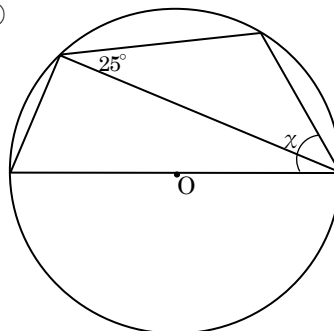
答 _____

③



答 _____

④



答 _____