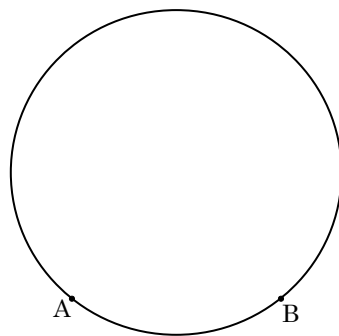
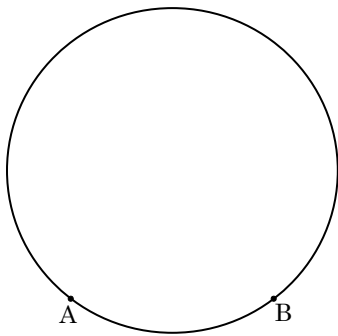
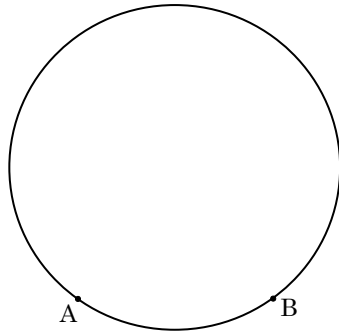


円周角の定理—2

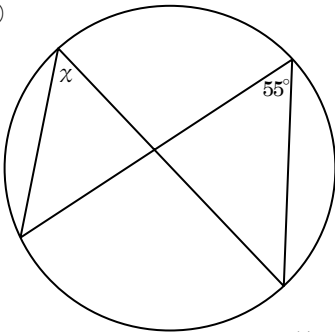
☆『円周角の定理2』…「同じ弧に対する円周角の大きさは、すべて等しい。」



※ 「円周角が“はねあがる”」 または 「円周角を“とばす”」 ということばを覚えよう。

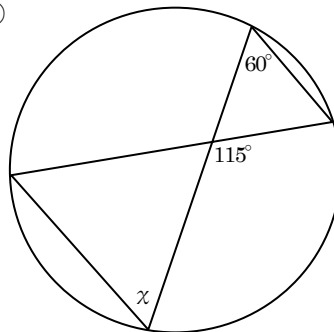
1, 次の円において、 $\angle \chi$ の大きさを求めなさい。

①



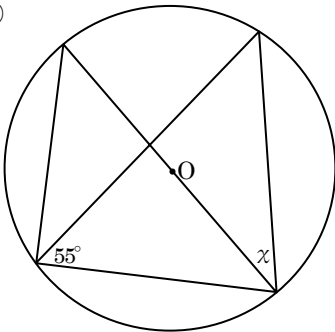
答 _____

②



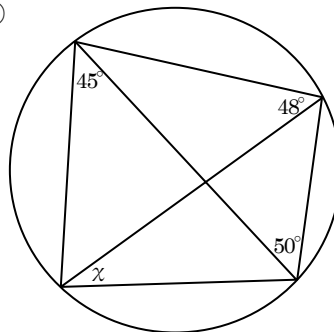
答 _____

③



答 _____

④



答 _____