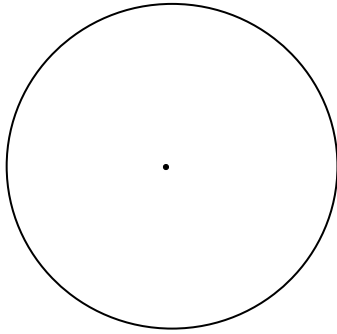
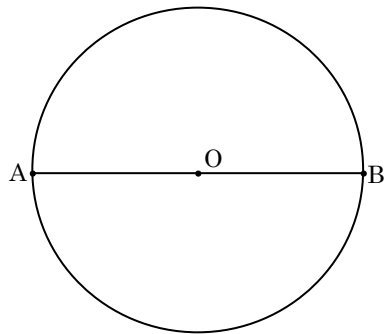
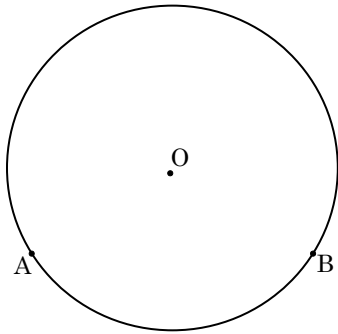


円周角の定理— 1

☆ 『円周角』



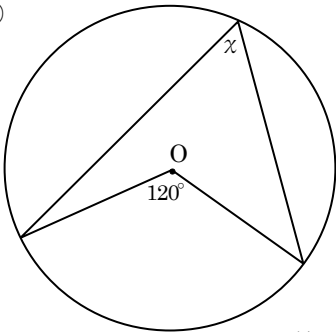
☆ 『円周角の定理』



『定理1』… 「一つの弧に対する円周角は、その弧に対する中心角の $\frac{1}{2}$ である。」

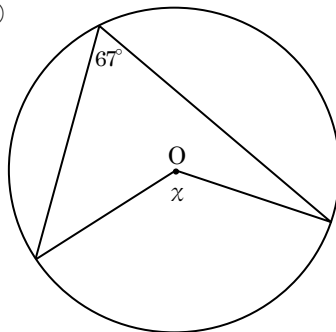
1, 次の円において、 $\angle \chi$ の大きさを求めなさい。

①



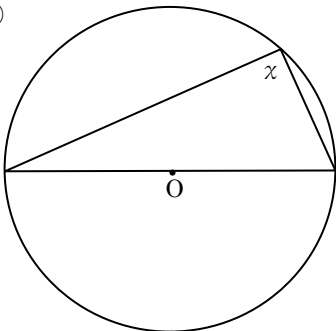
答 _____

②



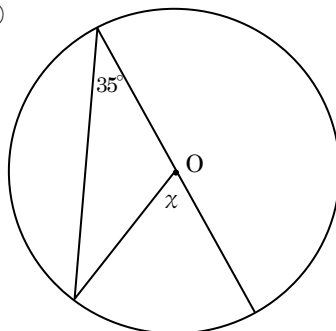
答 _____

③



答 _____

④



答 _____