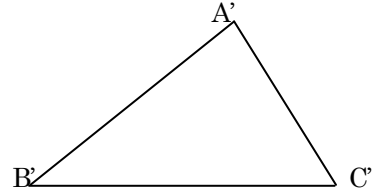
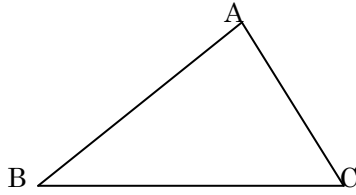


三角形の合同条件

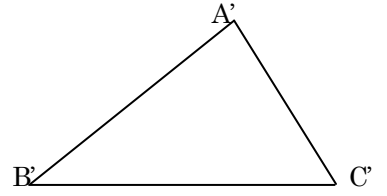
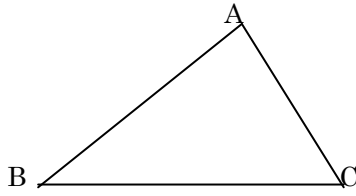
☆ 『三辺がそれぞれ等しい』

(三辺相等)



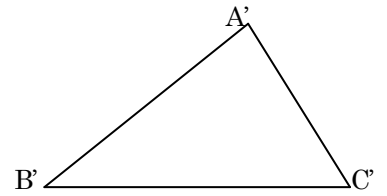
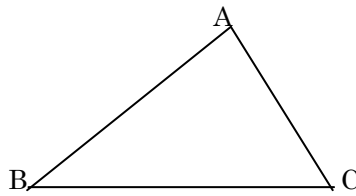
☆ 『二辺とその間の角がそれぞれ等しい』

(二辺夾角相等)

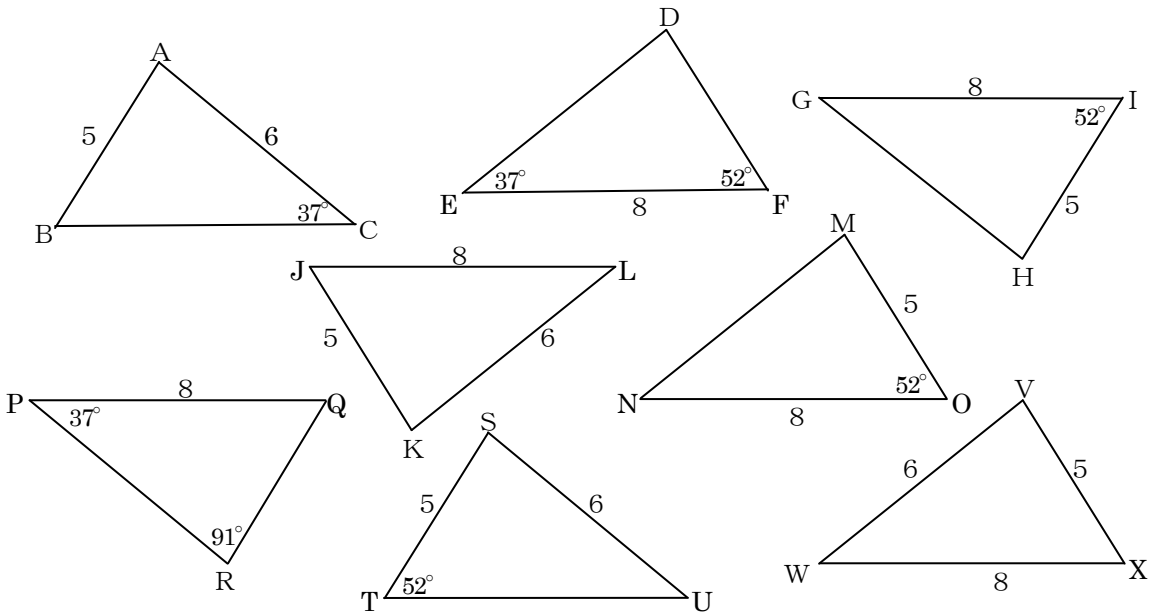


☆ 『一辺とその両端の角がそれぞれ等しい』

(二角夾辺相等)



1, 次の図で合同な三角形を、記号を使って表しなさい。また、その合同条件も書きなさい (下の欄に)。



答：三角形

合同条件