



## 座標と面積－2

「3点A(−3, 1), B(0, −4), C(6, 4)を頂点とする三角形の面積を求めなさい。ただし、座標の1目盛りを1cmとする。」



別解




※ 公式;

答 \_\_\_\_\_

1, 次の三角形ABCの面積を求めなさい。ただし、座標の1目盛りを1cmとする。

点A(0, 5) 点B(−3, −1) 点C(6, −4)



答 \_\_\_\_\_