



座標と面積 - 2

「3点A(-3, 1), B(0, -4), C(6, 4)を頂点とする三角形の面積を求めなさい。ただし、座標の1目盛りを1cmとする。」



別解




公式；

答 _____

1, 次の三角形ABCの面積を求めなさい。ただし、座標の1目盛りを1cmとする。

点A(0, 5) 点B(-3, -1) 点C(6, -4)



答 _____