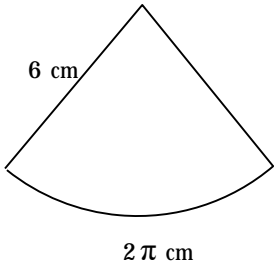


円とおうぎ形 - 4

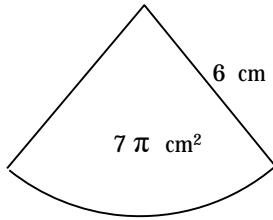
「次のおうぎ形の中心角を求めなさい。」

弧の長さを中心角



答 _____

面積と中心角



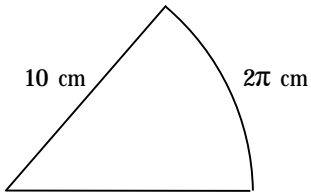
答 _____

おうぎ形の弧の長さや面積と中心角の大きさは比例する。

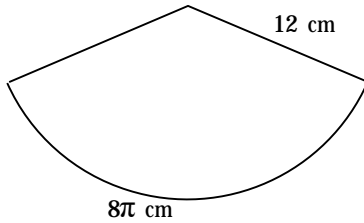
「

」

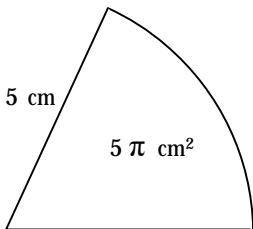
1, 次のおうぎ形の中心角を求めなさい。



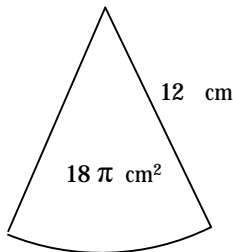
答 _____



答 _____



答 _____



答 _____