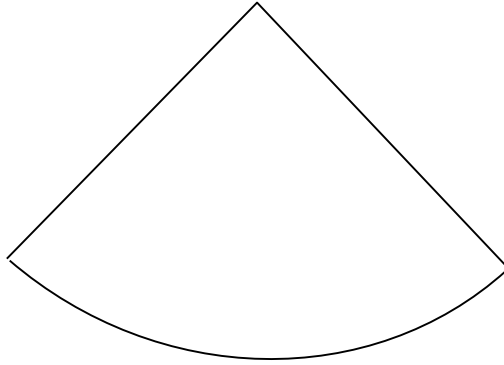


円とおうぎ形 - 2

おうぎ形の名称



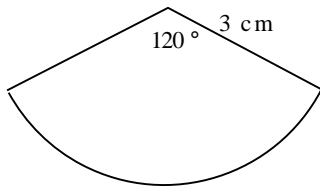
おうぎ形の面積の公式..... 『

』

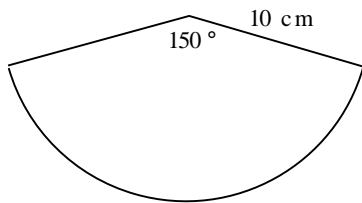
おうぎ形の弧の長さの公式... 『

』

1, 次のおうぎ形の面積と弧の長さを求めなさい。



答 面積 \_\_\_\_\_ , 弧 \_\_\_\_\_



答 面積 \_\_\_\_\_ , 弧 \_\_\_\_\_