



円とおうぎ形 - 1

円の名称



円の面積の公式…… 『

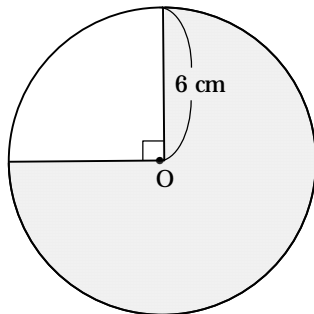
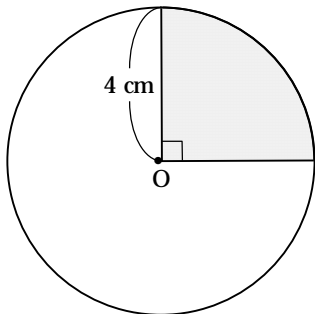
』

円の円周の長さの公式… 『

』

『円周率』は “ ” () で表す。

1, 次の図の影をつけた部分の面積と周囲の長さを求めなさい。



答 面積; _____

周囲; _____

答 面積; _____

周囲; _____